	INSTITUCIÓN EDUCATIVA ACADÉMICO NIT. 891901024-6 ICFES 01275-024364-018283 Resolución No. 1664 sept. 3 de 2002 Cod. DANE 176147000236	PÁGINA [1 - 1]
		CÓDIGO: DICUI: 600.1.23.01
	GUIAS DIDÁCTICAS PARA EL APRENDIZAJE	VERSIÓN 1
		Fecha de aprobación:

DOCENTE: Margarita Parra Ospina, Jhonier Mauricio García Ríos, María Luisa Parra Salazar.

ÁREA/ASIGNATURA: Ciencias Sociales

GRADO: 3° FECHA DE INICIO: Marzo 30 de 2020 FECHA DE FINALIZACIÓN: Abril 17 de 2020

COMPETENCIAS:

INTERPRETATIVA

Reconozco los elementos que me ayudan a orientarme en el espacio.
 Realizo diferentes tipos de gráficas.

ARGUMENTATIVA

Reconozco la importancia de conocer las formas del relieve y los diferentes climas

PROPOSITIVA

Valoro las diferencias en las regiones en cuanto a cultura, ubicación, clima y relieve.

APRENDIZAJES:

- Aplica la ubicación y orientación en el espacio.
- Reconoce los diferentes tipos de relieve, clima y pisos térmicos.
- Nombra las características del paisaje y los climas
- Conoce las regiones naturales y sus características.

CONTENIDOS:

- Gobierno estudiantil
- Símbolos patrios
- El relieve
- Los diferentes climas.
- Los paisajes
- Regiones naturales.

"Juntos en casa lo lograremos muy bien"

ACTIVIDADES:

ES MUY IMPORTANTE PAPITOS, ACOMPAÑAR A LOS NIÑOS A REALIZAR LAS SIGUIENTES ACTIVIDADES.

LAS (6) SEIS REGIONES NATURALES DE COLOMBIA Y SUS CARACTERÍSTICAS.

En este link <https://www.youtube.com/watch?v=xwJIZ79IP68> vamos a viajar por COLOMBIA

1. Continuemos leyendo muy juiciosos.

Las regiones naturales de Colombia son divisiones territoriales que dividen al país en seis grandes áreas geográficas: **Pacífica, Orinoquía, Insular, Caribe, Andina y Amazonia.**

Estas divisiones se basan en clasificaciones de su flora, fauna, recursos acuíferos, así como su relieve y clima, características que permiten establecer rasgos específicos de una región respecto a otras.


A continuación se exponen las principales particulares de cada una de la seis regiones.

La región natural del Pacífico se localiza en la zona occidente de Colombia, se extiende desde el Golfo de Urabá, en la frontera con Panamá, hasta la frontera con Ecuador.

Recorre así toda la parte del país bañada por el océano Pacífico. En el lado oriente, la región del Pacífico limita con la Cordillera Occidental, área natural que comprende los departamentos de Antioquia, Valle del Cauca, Cauca, Nariño y Chocó.

La región del Pacífico se caracteriza por su alta humedad. La región cuenta con numerosos ríos, caudalosos, como: Yurumanguí, Dagua, Timbiquí, Calima, Naya, Anchicayá o Atrato.

Otra característica fundamental de la región del Pacífico es la fuerte diversidad existente, caracterizada por la presencia de selvas, ríos, zonas montañosas y costas; así como de manglares y zonas pantanosas.

	INSTITUCIÓN EDUCATIVA ACADÉMICO NIT. 891901024-6 ICFES 01275-024364-018283 Resolución No. 1664 sept. 3 de 2002 Cod. DANE 176147000236	PÁGINA [2 - 1]
	GUIAS DIDÁCTICAS PARA EL APRENDIZAJE	CÓDIGO: DICUI: 600.1.23.01 VERSIÓN 1 Fecha de aprobación:



REGIÓN DEL PACÍFICO

Ingreseemos al siguiente link https://www.youtube.com/watch?v=0vj_6Uap_kc. El video nos muestra las regiones naturales de nuestra hermosa Colombia.

La región de Orinoquía, localizada en el oriente de Colombia, es también llamada los Llanos Orientales. Esta región natural abarca desde la Cordillera Oriental hasta la frontera con Venezuela. En el norte, queda delimitada por el río Arauca; y en el sur, por el río Guaviare. Los departamentos de Vichada, Vaupés, Guaviare, Meta, Guainía, Casanare y Arauca están ubicados en esta región. Esta región se caracteriza por la presencia de una extensa sabana nutrida a partir de los diversos ríos que vierten su caudal al río Orinoco.




La región Insular está compuesta por todas las islas de Colombia, se trata, por tanto, de la región más pequeña. Estas islas se clasifican en dos tipos: **las islas continentales** y **las islas oceánicas**.

Islas continentales

Son las islas que se localizan más cerca del territorio continental. En la costa del Caribe destacan Tortuguilla, Fuerte, San Bernardo, Barú, isla del Rosario, las islas Tierra Bomba y Santa Marta.

En la costa Pacífico, las islas son muy abundantes. Este hecho es debido a que la numerosos ríos que desembocan en esta costa, vierten piedras y arenas al mar, que conforman islas. Las islas con mayor importancia en la costa Pacífica son: las tres islas de Tumaco, El Gallo, Gorgonilla, Gorgona y las islas Cascajal.

	INSTITUCIÓN EDUCATIVA ACADÉMICO NIT. 891901024-6 ICFES 01275-024364-018283 Resolución No. 1664 sept. 3 de 2002 Cod. DANE 176147000236	PÁGINA [3 - 1]
	GUIAS DIDÁCTICAS PARA EL APRENDIZAJE	CÓDIGO: DICUI: 600.1.23.01 VERSIÓN 1 Fecha de aprobación:

Islas oceánicas

Son las islas localizadas lejos del territorio continental. El origen de estas islas se debe a elevaciones de montañas o dorsales submarinos sobre el nivel del mar. En la costa del Caribe destacan: Santa Catalina, Providencia y San Andrés, mientras que en la costa Pacífica solo está Malpelo.

Tanto las islas continentales como las oceánicas gozan de un ecosistema rodeado de una amplia fauna y flora. De hecho, muchas de estas islas son consideradas reservas naturales o santuarios.

La región natural del Caribe Abarca desde el Golfo de Urabá, frontera con Panamá, hasta la península de la Guajira. En el sur, limita con las cordilleras Occidental y Central; y en el norte, con el mar Caribe.

Esta región tiene un clima bastante cálido y tropical. Este agradable clima y sus bellos paisajes, convierten la región en un importante destino turístico de Colombia. En esta región se localiza los departamentos del Chocó, Antioquia, César, Sucre, Magdalena, La Guajira, Córdoba y Atlántico Bolívar.

Se caracteriza por ser una región plana, con una importante presencia de ciénagas y lagunas cerca de sus amplias costas. Sin embargo, la región cuenta con los picos más altos de Colombia, ubicados en la Sierra Nevada de Santa Marta.



Con lo cual, la elevada diversidad climática, así como la fauna y la flora asociada a ella, son los rasgos distintivos de esta región natural de Colombia.




La región Andina está formada por las tres cordilleras de los Andes: la Cordillera Occidental, la Oriental y la Central. Abarca tanto las montañas, como los valles que separan los tres sistemas montañosos, ocupando, así, toda la parte central del país. Esta región está compuesta por 17 departamentos: Putumayo, Valle del Cauca, Santander, Risaralda, Quindío, Nariño, Huila, Chocó, Cundinamarca, César, Caquetá, Cauca, Casanare, Caldas, Boyacá, Arauca y Antioquía.

La región Andina se caracteriza por una gran diversidad climática, fruto de su localización geográfica. La diversidad de ecosistemas presentes en la región (bosques, páramos, mesetas, valles, entre otros), junto a la variedad en fauna y flora que habita en ellos, también forman parte del sello de identidad de la región.

La región natural de Amazonia se ubica al sur del país, exactamente en la amazonia colombiana, es la región más grande. Los departamentos de Vichada, Vaupés, Putumayo, Guaviare, Guainía, Caquetá y Amazonas se ubican en esta región.

La zona amazónica se caracteriza por la presencia de un clima cálido con un elevado índice de precipitaciones. También merece la pena destacar que la región Amazónica cuenta con una de las mayores cuencas hidrográficas del mundo, la Gran Amazonía. Caudalosos ríos como Caquetá, Putumayo, Vaupés, Negro, entre otros, surcan la región.



	INSTITUCIÓN EDUCATIVA ACADÉMICO NIT. 891901024-6 ICFES 01275-024364-018283 Resolución No. 1664 sept. 3 de 2002 Cod. DANE 176147000236	PÁGINA [4 - 1]
	GUIAS DIDÁCTICAS PARA EL APRENDIZAJE	CÓDIGO: DICUI: 600.1.23.01 VERSIÓN 1 Fecha de aprobación:

Ya nos dimos cuenta cuáles son las regiones que tiene nuestro hermoso país COLOMBIA, hay variedad de clima y relieve.

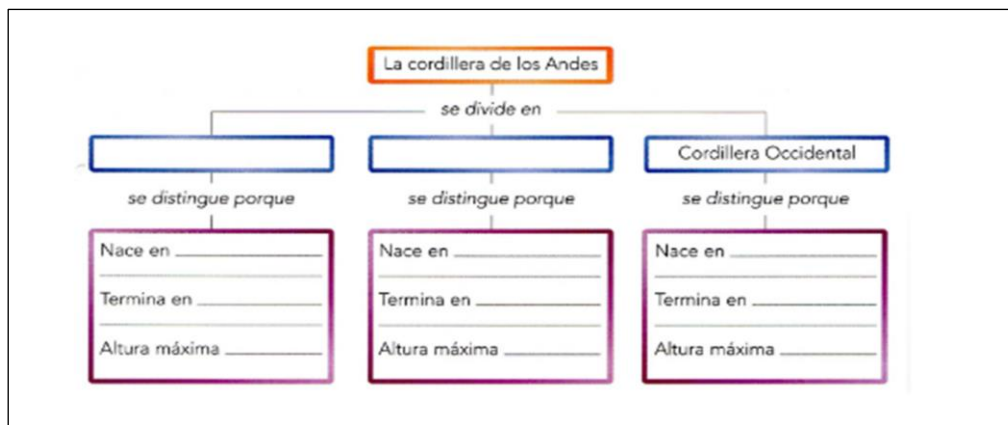
2. Hablemos un poco de esto: visitemos el siguiente link <https://www.youtube.com/watch?v=I4uByjJf-OE>, que nos muestra video del relieve que existe en Colombia


A continuación responder las siguientes interrogantes:

- ¿Cuáles son los volcanes que se destacan en el Nudo de los Pastos? _____, _____, _____
 - Al norte de la cordillera central se forma el Macizo Colombiano o Nudo de Almaguer, en él se encuentran alturas destacadas: _____
 - Son cordilleras de nuestro relieve Colombiano: _____, _____
 - _____, _____, _____ Son nevados que pertenecen a Colombia.
 - Son páramos de Colombia: _____, _____
3. Colorear el Relieve Colombiano, escribir los nombres de las cordilleras.



4. Completar:



	INSTITUCIÓN EDUCATIVA ACADÉMICO NIT. 891901024-6 ICFES 01275-024364-018283 Resolución No. 1664 sept. 3 de 2002 Cod. DANE 176147000236	PÁGINA [5 - 1]
		CÓDIGO: DICUI: 600.1.23.01
	GUIAS DIDÁCTICAS PARA EL APRENDIZAJE	VERSIÓN 1
		Fecha de aprobación:

EVALUACIÓN:

1.

1. Busco y coloreo las siguientes palabras

las regiones naturales de colombia


H	C	E	R	D	Z	Y	X	O	K	O	N	V	F	R
Z	W	T	A	M	Y	O	U	E	W	R	R	E	D	G
C	D	T	K	V	I	B	R	H	E	I	X	X	L	F
L	I	O	E	U	H	A	Z	W	N	N	D	A	Z	R
C	W	E	B	R	L	D	A	A	W	O	V	I	Y	O
S	F	Z	L	U	R	N	C	C	P	Q	G	B	X	N
U	B	B	S	P	I	I	R	I	J	U	I	M	L	N
E	F	N	G	D	B	Z	T	N	J	I	F	O	B	K
B	I	V	N	W	C	T	S	O	W	A	R	L	A	R
B	U	A	E	T	W	O	M	Z	R	J	L	O	L	M
L	R	X	F	Q	J	L	A	A	Y	I	H	C	X	A
M	C	O	R	C	K	E	Z	M	N	X	O	I	J	Y
K	C	C	J	P	K	P	T	A	Z	V	F	B	Y	P
L	E	J	U	U	C	I	P	A	C	I	F	I	C	A
U	R	P	X	H	N	O	I	C	A	L	B	O	P	N

amazonica
andina
colombia
insular
orinoquia
pacifica
poblacion
territorio

2. Colorea y escribe el nombre de cada una de las regiones naturales de Colombia .

2- Dibuje un paisaje perteneciente a cada región natural de Colombia.



	INSTITUCIÓN EDUCATIVA ACADÉMICO NIT. 891901024-6 ICFES 01275-024364-018283 Resolución No. 1664 sept. 3 de 2002 Cod. DANE 176147000236	PÁGINA [6 - 1]
		CÓDIGO: DICUI: 600.1.23.01
	GUIAS DIDÁCTICAS PARA EL APRENDIZAJE	VERSIÓN 1
		Fecha de aprobación:

3. Después de haber observado los videos y realizado la lectura, completa los siguientes enunciados:

a. Las regiones naturales de Colombia son:

b. La región Caribe está ubicada al _____, su clima _____, algunos de los departamentos que pertenecen a esta región son:

c. La región Pacífica, ubicada al _____, su clima es _____ algunos de los departamentos que pertenecen a esta región son

d. La región Insular está integrada por las _____ que se clasifican en _____ y _____, su clima es _____, algunos departamentos que pertenecen a esta región son:

e. La región Amazónica está ubicada al _____, su clima es _____, algunos de los departamentos que pertenecen a ésta son _____

4.

Elementos del paisaje

En el dibujo, identifica las siguientes formas del relieve terrestre y escribe su nombre en cada .

valle volcán mar meseta cordillera río montaña costa

